

۱۲۶- گزینه ۲ پاسخ صحیح است. سرعت برابر با شیب خط مماس بر نمودار مکان - زمان است. در لحظه $t_۳$ سرعت منفی و در لحظه $t_۴$ سرعت مثبت است و بنابراین در این بازه زمانی شتاب متوسط مثبت و در جهت محور X ها است.

۱۲۷- گزینه ۱ پاسخ صحیح است. مسافت طی شده برابر با مجموع اندازه جابه‌جایی‌های متحرک در بازه‌های زمانی است که جهت حرکت متحرک تغییر نمی‌کند.

$$l = ۱۶ + (۲۴ - (-۱۶)) + ۲۴ = ۸۰ \text{ m}$$

۱۲۸- گزینه ۲ پاسخ صحیح است.

$$v_A = \frac{1 - 4}{1 - 0} = -3 \frac{m}{s} \quad x_A = v_A t + x_{0,A} \text{ و } x_{0,A} = 4m \quad \rightarrow x_A = -3t + 4$$

$$v_B = \frac{-4 - (-1)}{1 - 0} = -3 \frac{m}{s} \quad x_B = v_B t + x_{0,B} \quad \rightarrow x_B = -3t - 1$$

$x_{0,B} = -1m$

$$\rightarrow \rightarrow \frac{x_A = -3t + 4}{x_B = -3t - 1} \rightarrow -3t + 4 = -3(-3t - 1)$$

$$\Rightarrow vT = 14 \Rightarrow t = 2s \Rightarrow \begin{cases} v_A = -3m \\ x_B = 1m \end{cases} \Rightarrow |x_B - x_A| = 3m$$

۱۲۹- گزینه ۱ پاسخ صحیح است.

$$v = \frac{x_2 - x_1}{t_2 - t_1} = \frac{13 - (-5)}{5 - 2} = 6 \frac{m}{s}$$

$$v = 6 \frac{m}{s}$$
$$x = vt + x_0 \quad \rightarrow x - x_0 = 6 \times 4 = 24m$$

$t = 4s$

۱۳۰- گزینه ۴ پاسخ صحیح است. با توجه به این که در ۵ ثانیه اول، سرعت ثانویه از سرعت اولیه کم تر است، پس شتاب متوسط در ۵ ثانیه اول منفی است، یعنی:

$$a_{av} = \frac{v_2 - v_1}{\Delta t} \Rightarrow \frac{-4}{10} = \frac{0 - v_1}{5} \Rightarrow v_1 = 2 \frac{m}{s}$$

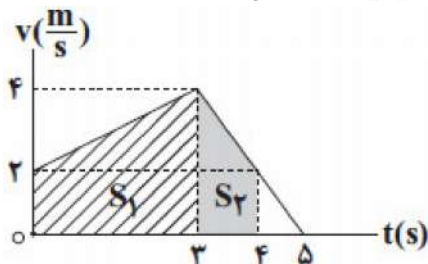
حال باید سرعت را در لحظه $t = 4s$ بیابیم، با توجه به این که در بازه $t = 3s$ تا $t = 5s$ حرکت با شتاب ثابت $-2 \frac{m}{s^2}$

است. $\left(a = \frac{\Delta v}{\Delta t} = \frac{0 - 4}{5 - 3} = -2 \frac{m}{s^2} \right)$ داریم:

$$(t_1 = 3s, t_2 = 5s) \quad v = at + v_0 \quad \xrightarrow{v_0 = 4 \frac{m}{s}} \quad v = (-2 \times 1) + 4 = 2 \frac{m}{s}$$

$$a = -2 \frac{m}{s^2}, t = 1s$$

مساحت زیر نمودار $(v - t)$ در بازه $(0, 4s)$ جابه‌جایی متحرک را در این بازه به ما می‌دهد.



$$S_1 = \frac{(4 + 2) \times 3}{2} = 9m, S_2 = \frac{(2 + 4) \times 1}{2} = 3m$$

$$\Rightarrow v_{av} = \frac{\Delta x}{\Delta t} \quad \xrightarrow{\Delta x = S_1 + S_2} \quad v_{av} = \frac{12}{4} = 3 \frac{m}{s}$$

۱۳۱- گزینه ۲ پاسخ صحیح است. برای به دست آوردن متحرک در لحظه $t = 35s$ نیاز به دانستن شتاب و سرعت اولیه حرکت داریم.

$$x = \frac{1}{2}at^2 + v_0 t + x_0 \Rightarrow x_0 \Rightarrow 0 = \frac{1}{2}a(35)^2 + v_0 \times 35 + 35 \Rightarrow \frac{35}{2}a + v_0 = -10 \quad (1)$$

با توجه به نمودار می‌توان گفت در لحظه $t = 30s$ متحرک از نقطه شروع حرکت می‌گذرد، بنابراین:

$$\Delta x = \frac{1}{2}at^2 + v_0 t \Rightarrow 0 = \frac{1}{2}a \times 30^2 + 30v_0 \Rightarrow 15a + v_0 = 0 \quad (2)$$

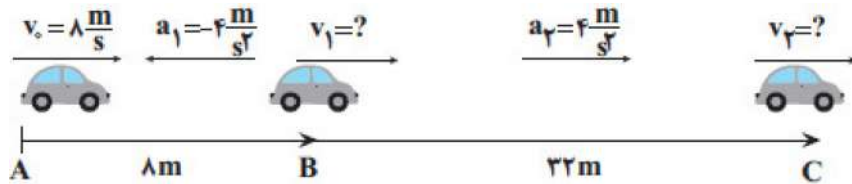
$$(1), (2) \Rightarrow a = -4 \frac{m}{s^2} \Rightarrow 15(-4) + v_0 = 0 \Rightarrow v_0 = 60 \frac{m}{s}$$

$$v = at + v_0 = -4(35) + 60 = -140 + 60 = -80 \frac{m}{s}$$

۱۳۲- گزینه ۲ پاسخ صحیح است. سطح محصور بین نمودار $v - t$ و محور t جابه‌جایی متحرک را نشان می‌دهد از طرفی چون جهت حرکت متحرک در ۸ ثانیه اول حرکت تغییر نکرده است، پس مسافت طی شده در این مدت با جابه‌جایی برابر است.

$$\frac{(v_{av})^{۴-۸} S_{۴s-۸s}}{(v_{av})^{۰-۴} S_{۰-۴s}} = \frac{(۴+۲)v}{۲} = \frac{۴ \times v}{۲} = ۲$$

۱۳۳- گزینه ۳ پاسخ صحیح است. حرکت متحرک مطابق شکل زیر است:



ابتدا معادله سرعت جابه‌جایی را برای مسیر AB می‌نویسیم و v_1 را به دست می‌آوریم:

$$v_1^2 - v_0^2 = 2a_1 \Delta x_1 \Rightarrow v_1^2 - 8^2 = 2(-4)(8) \Rightarrow v_1 = 0$$

$$v_2^2 - v_1^2 = 2a_2 \Delta x_2 \Rightarrow v_2^2 = 2(4)(32) \Rightarrow v_2 = 16 \frac{m}{s}$$

همین کار را برای مسیر BC انجام می‌دهیم:

$$v_{av} = \frac{v_1 + v_2}{۲} = \frac{۰ + ۱۶}{۲} = ۸ \frac{m}{s}$$

از آنجایی که فقط در مسیر BC حرکت تندشونده است، داریم:

۱۳۴- گزینه ۴ پاسخ صحیح است. مساحت محصور بین نمودار شتاب - زمان و محصور زمان برابر با تغییرات سرعت است.

$$S_1 = 8 \times 2 = 16 \frac{m}{s}$$

$$v_t = 2s = v_0 + S_1 \cdot t \rightarrow v_t = 2s = 6 \frac{m}{s}$$

$$v_0 = -10 \frac{m}{s}$$

$$v = at + v_0$$

$$0 \leq t \leq 2s \rightarrow v = 8t - 10 \rightarrow t = \frac{5}{4}s$$

$$2s < t \leq 4s \Rightarrow v = v_t = 2s = 6 \frac{m}{s}$$

$$v = at(t - 4) + v_0$$

$$4s < t \leq 6s \rightarrow v = -12(t - 4) + 6$$

$$v = 0 \rightarrow t = 4/5s$$

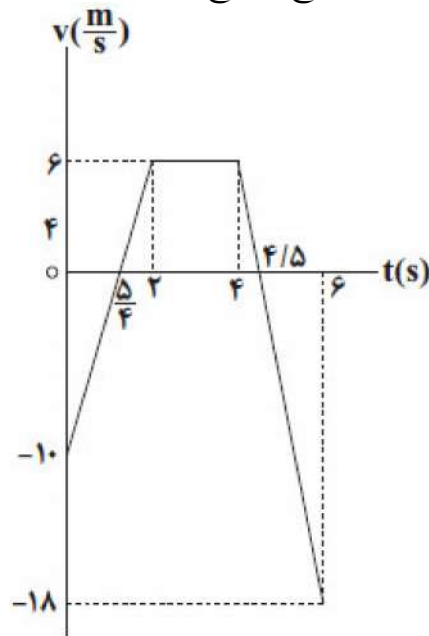
$$v_t = 2s = v_t = 4s, v_t = 6s = v_t = 4s + S_2$$

$$S_2 = -2 \times 12 = -24 \frac{m}{s}$$

$$v_t = 6s = 6 - 24 = -18 \frac{m}{s}$$

$$v_t = 4s = 6 \frac{m}{s}$$

$$\text{مدت زمان تندشونده} = \left(2 - \frac{5}{4}\right) + \left(6 - \frac{4}{5}\right) = \frac{9}{4}s = 2/25s$$



گزینه ۱ پاسخ صحیح است. راه حل اول: با توجه به این که شتاب حرکت منفی و سرعت اولیه متحرک برابر با $2 \frac{m}{s}$ است، بنابراین در لحظه‌ای که تندی $14 \frac{m}{s}$ است، سرعت برابر با $-14 \frac{m}{s}$ است:

$$x = -4t^2 + 2t + 1 \longrightarrow \begin{cases} \frac{1}{2}a = -4 \Rightarrow a = -8 \frac{m}{s} \\ v_0 = 2 \frac{m}{s} \end{cases}$$

$$v = at + v_0 \longrightarrow \begin{matrix} v_0 = 2 \frac{m}{s} \text{ و } v = -14 \frac{m}{s} \\ a = -8 \frac{m}{s} \end{matrix} \longrightarrow -14 = -8t + 2 \Rightarrow t = 2s$$

$$\Rightarrow x = -4 \times 2^2 + 2 \times 2 + 1 = -11m$$

راه دوم:

با استفاده از معادله سرعت - جابه‌جایی داریم:

$$v^2 - v_0^2 = 2a\Delta x \longrightarrow \begin{matrix} |v| = 14 \frac{m}{s} \text{ و } a = -8 \frac{m}{s} \\ v_0 = 2 \frac{m}{s} \end{matrix} \longrightarrow (14)^2 - 2^2 = 2 \times (-8)\Delta x$$

$$\Rightarrow \Delta x = -\frac{14^2 - 2^2}{16} = -12m \quad \begin{matrix} x_0 = 1m \\ \Delta x = x - x_0 \end{matrix} \longrightarrow -12 = x - 1 \Rightarrow x = -11m$$

۱۳۶- گزینه ۱ پاسخ صحیح است. راه حل اول:

$$x_A = \frac{1}{2} a_A t^2 + v_{,A} t + x_{,A} \xrightarrow{x_{,A} = 0} x_A = \frac{1}{2} a_A t^2 + v_{,A} t$$

$$x_B = \frac{1}{2} a_B t^2 + v_{,B} t + x_{,B} \xrightarrow{x_{,B} = 0} x_B = \frac{1}{2} a_B t^2 + v_{,B} t$$

$$\xrightarrow{v_{,A} = v_{,B}} x_A - x_B = \frac{1}{2} (a_A - a_B) t^2$$

$$\xrightarrow{t = 4s} x_A = 40m, x_B = 12m} 28 = \frac{1}{2} (a_A - a_B) \times 4^2 \Rightarrow a_A - a_B = \frac{56}{16} = \frac{7m}{2s}$$

$$\vec{v}_A = a_A t + \vec{v}_{,A}$$

$$\vec{v}_B = a_B t + \vec{v}_{,B}$$

$$\xrightarrow{v_{,A} = v_{,B}} \vec{v}_B - \vec{v}_A = (a_B - a_A) t$$

$$\xrightarrow{a_B - a_A = \frac{-7m}{2s}} \vec{v}_B - \vec{v}_A = \frac{-7}{2} \times 4 \vec{i} = -14 \vec{i} \left(\frac{m}{s} \right)$$

راه حل دوم: با توجه به رابطه سرعت متوسط در حرکت با شتاب ثابت داریم:

$$\frac{v_A + v_{,A}}{2} = \frac{\Delta x_A}{\Delta t_A} \xrightarrow{\Delta t_A = 4s, \Delta x_A = 40m} v_A + v_{,A} = 20 \frac{m}{s}$$

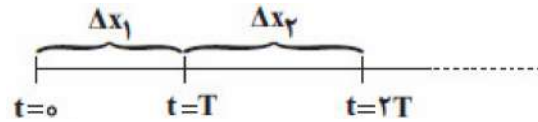
$$\frac{v_B + v_{,B}}{2} = \frac{\Delta x_B}{\Delta t_B} \xrightarrow{\Delta t_B = 4s, \Delta x_B = 12m} v_B + v_{,B} = 6 \frac{m}{s}$$

$$\xrightarrow{v_{,A} = v_{,B}} v_A - v_B = 14 \frac{m}{s} \Rightarrow \vec{v}_B - \vec{v}_A = -14 \vec{i} \left(\frac{m}{s} \right)$$

۱۳۷- گزینه ۳ پاسخ صحیح است. از آنجا که تندی متوسط و بزرگی سرعت متوسط با یکدیگر برابر نیستند، بنابراین جهت حرکت متحرک تغییر می‌کند. در حرکت با شتاب ثابت اگر متحرک تغییر جهت دهد ابتدا نوع حرکت متحرک کندشونده است و سپس تندشونده می‌شود.

۱۳۸- گزینه ۳ پاسخ صحیح است. چون نمودار مکان - زمان به صورت سهمی است، بنابراین حرکت با شتاب ثابت است، از طرفی با توجه به شکل شیب خط مماس بر نمودار ابتدا منفی و اندازه آن در حال کم شدن می‌باشد. بنابراین شتاب حرکت متحرک ثابت و مثبت است و لذا نمودار سرعت - زمان به صورت خط راست با شیب مثبت است و از آنجا که شیب خط مماس بر نمودار مکان - زمان در مبدا زمان منفی است، بنابراین سرعت اولیه متحرک منفی است و لذا نمودار سرعت - زمان آن مطابق گزینه «۳» است.

۱۳۹- گزینه ۴ پاسخ صحیح است.



با استفاده از رابطه سرعت متوسط متحرک داریم:

$$\frac{v_1 + \overbrace{v_1 + aT}^{v_2}}{2} = \frac{\Delta x_1}{T} \Rightarrow \Delta x_1 = v_1 T + \frac{aT^2}{2}$$

$$\frac{\overbrace{v_1 + aT}^{v_2} + \overbrace{v_2 + 2aT}^{v_3}}{2} = \frac{\Delta x_2}{T}$$

$$\Rightarrow \Delta x_2 = v_1 T + \frac{aT^2}{2} + aT^2 = \Delta x_1 + aT^2$$

$$\Delta x_n = \Delta x_1 + (n-1)aT^2$$

$$A \text{ متحرک } \Delta x_A = \Delta x_1 + 3a_A T^2 \xrightarrow[\Delta x_1 = 25m]{\Delta x_A = 45m} 3a_A T^2 = 20m \quad (1)$$

$$B \text{ متحرک } \Delta x_B = \Delta x_1 + 3a_B T^2 \xrightarrow[\Delta x_B = 40m]{\Delta x_1 = 15m} 3a_B T^2 = 25m \quad (2)$$

$$(1) \text{ و } (2) \Rightarrow \frac{a_A}{a_B} = \frac{20}{25} = \frac{4}{5}$$

۱۴۰- گزینه ۱ پاسخ صحیح است.

$$3s \leq t \leq 6s$$

$$v_{av} = \frac{v_1 + v_2}{2} \xrightarrow{v_1 = at_1 \text{ و } v_2 = at_2} v_{av} = \frac{a(t_1 + t_2)}{2}$$

$$\xrightarrow{t_1 = 3s \text{ و } t_2 = 6s} v_{av} = \frac{4 \times (3 + 6)}{2} = 18 \frac{m}{s}$$

$$a = 4 \frac{m}{s^2}$$

۱۴۱- گزینه ۴ پاسخ صحیح است. زمانی که سرعت و شتاب هم‌جهت باشند، اندازه سرعت افزایش می‌یابد. چون در ابتدا متحرک در جهت مثبت محور X ها در حال حرکت است. بنابراین اگر شتاب مثبت باشد بر اندازه سرعت متحرک افزوده می‌شود و اگر شتاب منفی باشد، اندازه سرعت حرکت متحرک کاهش می‌یابد. در گزینه «۱»: در حالی که شتاب مثبت است سرعت متحرک صفر شده است اما از آنجا سرعت اولیه متحرک مثبت بوده بنابراین نمی‌تواند سرعت متحرک صفر گردد.

در گزینه «۲»: ابتدا شتاب منفی است و سرعت متحرک به صفر می‌رسد و سپس شتاب مثبت می‌شود و بایستی متحرک با سرعت مثبت و تندشونده از حال سکون شروع به حرکت کند. (نادرستی گزینه «۲»)

در گزینه «۳»: با توجه به این که شتاب همواره مثبت است بایستی حرکت متحرک پیوسته تندشونده باشد و لذا سرعت متحرک نبایستی صفر گردد.

در گزینه «۴»: شتاب متحرک همواره منفی است. در ابتدا سرعت متحرک صفر می‌شود و سپس با تغییر اندازه شتاب در جهت منفی اندازه سرعت افزایش می‌یابد.

۱۴۲- گزینه ۱ پاسخ صحیح است. با توجه به معادله مکان - زمان در حرکت با شتاب ثابت داریم:

$$\Delta x = \frac{1}{2} a t^2 + v_0 t \quad \begin{matrix} v_0 = 20 \frac{m}{s} \\ a = -4 \frac{m}{s^2}, t = 3s \end{matrix} \rightarrow \Delta x = \frac{-1}{2} \times 4 \times 3^2 + 20 \times 3$$

$$\Rightarrow \Delta x = 42 \text{ m} \Rightarrow \text{بردار جابه جایی} = 42 \hat{i} \text{ (m)}$$

۱۴۳- گزینه ۳ پاسخ صحیح است. نیروی هم‌چسبی بین مولکول‌های آب سبب می‌شود تا ماهی بتواند از آن به عنوان وسیله‌ای جهت شکار استفاده کند.

۱۴۴- گزینه ۳ پاسخ صحیح است. علت پخش شدن آب بر روی سطح شیشه تمیز آن است که نیروی هم‌چسبی بین مولکول‌های آب کم‌تر از نیروی دگرچسبی بین مولکول‌های آب و شیشه است.

۱۴۵- گزینه ۲ پاسخ صحیح است. ویژگی‌های فیزیکی نانو لایه‌ها، همانند نانو ذره‌ها تغییر قابل توجهی دارند.

۱۴۶- گزینه ۱ پاسخ صحیح است.

$$P = \rho gh + P_0 \Rightarrow (P_0 + \rho gh) = \rho gh + P_0$$

$$\Rightarrow \rho gh - P_0 = \rho gh$$

$$\Rightarrow \rho \times 10^5 = 10^3 \times 10 \times h$$

$$\Rightarrow h = 1 \text{ m}$$

۱۴۷- گزینه ۲ پاسخ صحیح است. فشار هوا در ارتفاع h از سطح دریا:

$$P = P_0 - \bar{\rho}gh$$

$$P = 10^5 - 1 \times 10 \times 2000 = 100 \times 10^3 - 20 \times 10^3 = 80 \times 10^3 \text{ Pa}$$

$$F = PA = 80 \times 10^3 \times (0.5)^2$$

$$F = 8 \times 10^4 \times 3 \times 0.25 = 6 \times 10^4 \text{ N}$$

۱۴۸- گزینه ۴ پاسخ صحیح است. طبق رابطه $F = mg$ نیروی وارد از طرف مایع به کف ظرف برابر وزن مایع است که در دو حالت یکسان است. در مورد فشار، از آن جا که حجم مایع انتقال داده شده ثابت است، در ظرف دوم که قاعده آن ۹ برابر ظرف اول است، ارتفاع مایع $\frac{1}{9}$ برابر ظرف اول است.

$$V_2 = V_1 = A_2 h_2 = A_1 h_1 \Rightarrow 9 A_1 h_2 = A_1 h_1 \Rightarrow h_2 = \frac{1}{9} h_1$$

$$P = \rho gh \xrightarrow{h_2 = \frac{1}{9} h_1} P_2 = \frac{1}{9} P_1$$

۱۴۹- گزینه ۳ پاسخ صحیح است. باید دقت کنید که ابتدا فشار وارد بر کف ظرف از طرف مایع برابر است با:

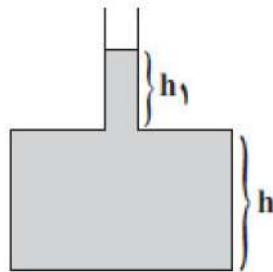
$$P = \rho gh + \rho gh$$

$$h_1 = \frac{V_1}{A_1} \rightarrow \text{ثابت}$$

حال وقتی مساحت سمت باریک $\frac{1}{9}$ برابر شود، آن گاه:

$$\downarrow \rightarrow \frac{1}{9} \text{ برابر}$$

۳ برابر



$$P' = \rho gh + 3\rho gh_1$$

بنابراین فشار جدید وارد بر کف ظرف برابر است با:

$$\frac{P'}{P} = \frac{\rho gh + 3\rho gh_1}{\rho gh + \rho gh_1}$$

$$\Rightarrow \begin{cases} \frac{P'}{P} = \frac{(\rho gh + \rho gh_1) + 2\rho gh_1}{\rho gh + \rho gh_1} = 1 + \frac{2\rho gh_1}{\rho gh + \rho gh_1} > 1 \\ \frac{P'}{P} = \frac{3(\rho gh + \rho gh_1) - 2\rho gh}{\rho gh + \rho gh_1} = 3 - \frac{2\rho gh}{\rho gh + \rho gh_1} < 3 \end{cases}$$

۱۵۰- گزینه ۲ پاسخ صحیح است. فشارسنج، فشارسنج، فشار پیمانه‌ای مخزن گاز یعنی $P_0 - P_{\text{گاز}}$ را نمایش می‌دهد. اگر برای دو نقطه A و B فشار را بنویسیم، داریم:

$$P_A = P_{\text{گاز}} + \rho_1 g h_1$$

$$P_B = P_0 + \rho_2 g h_2$$

$$\begin{aligned} P_A &= P_B \\ \longrightarrow P_{\text{گاز}} + \rho_1 g h_1 &= P_0 + \rho_2 g h_2 \end{aligned}$$

$$\Rightarrow \underbrace{P_{\text{گاز}} - P_0}_{\text{پیمانه ای } P} = \rho_2 g h_2 - \rho_1 g h_1$$

$$\Rightarrow 1800 = (3 \times 10^3 \times 10 \times h_2) - (8 \times 10^2 \times 10 \times h_1)$$

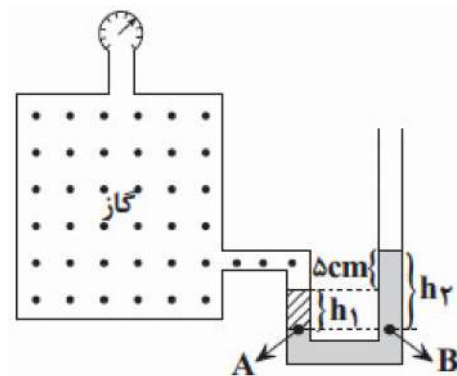
$$\Rightarrow 300 h_2 - 80 h_1 = 18 \Rightarrow 1/5 h_2 - 0/4 h_1 = 9 \times 10^{-2} \text{ (m)}$$

$$\Rightarrow 1/5 h_2 - 0/4 h_1 = 9 \text{ (cm)} \quad (1)$$

$$h_2 - h_1 = 5 \text{ cm} \quad (2)$$

$$\frac{h_2}{h_1} = \frac{70}{15} = \frac{14}{3}$$

با حل دو معادله (۱) و (۲) داریم: $h_2 = \frac{70}{11} \text{ cm}$ و $h_1 = \frac{15}{11} \text{ cm}$ در نتیجه:



از طرفی طبق شکل می‌توان نوشت: